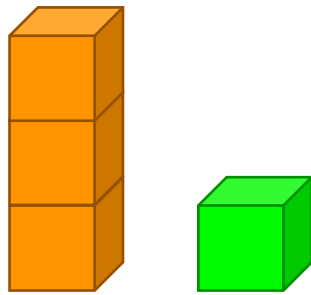


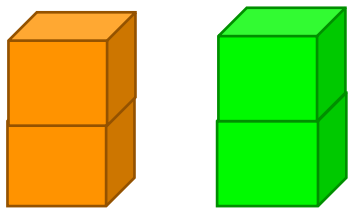
1. Finde die Zahlenfreunde der 4.

Beispiele:



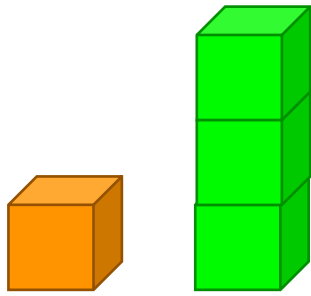
3 und 1 sind Zahlenfreunde der 4.

$$\boxed{3} + \boxed{1} = \boxed{4}$$




_____ und _____ sind Zahlenfreunde der 4

$$\boxed{} + \boxed{} = \boxed{4}$$




_____ und _____ sind Zahlenfreunde der 4

$$\square + \square = 4$$



_____ und _____ sind Zahlenfreunde der 4

$$\square + \square = 4$$

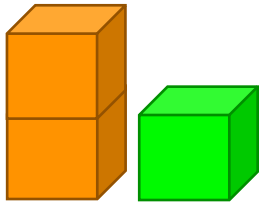


_____ und _____ sind Zahlenfreunde der 4

$$\square + \square = 4$$




2. Schreibe die richtige Zahl in die Boxen.



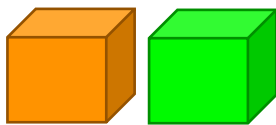
2 und 1 sind Zahlenfreunde der

$2 + 1 =$



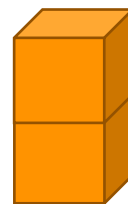
0 und 3 sind Zahlenfreunde der

$0 + 3 =$




1 und 1 sind Zahlenfreunde der

$1 + 1 =$



2 und 0 sind Zahlenfreunde der

$2 + 0 =$



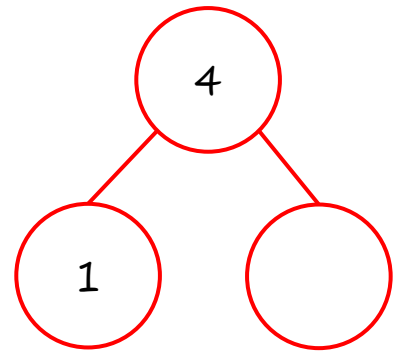
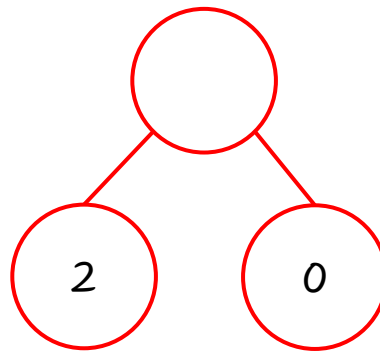
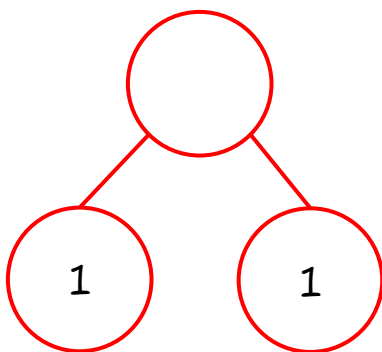
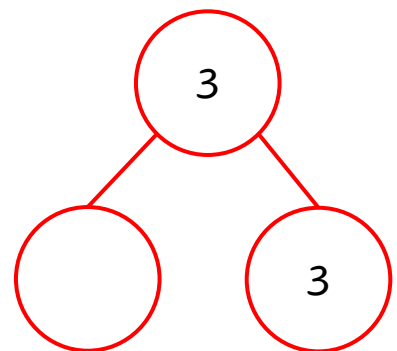
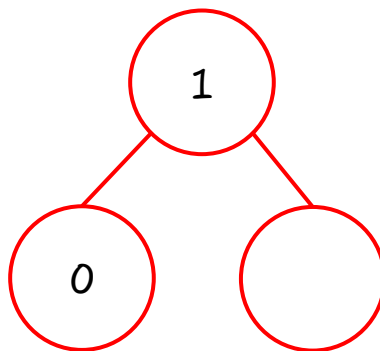
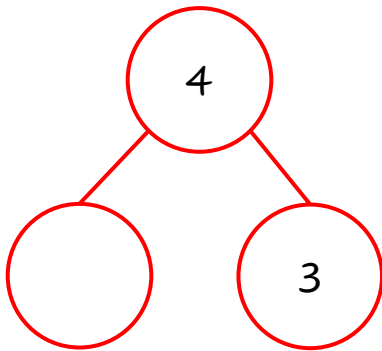
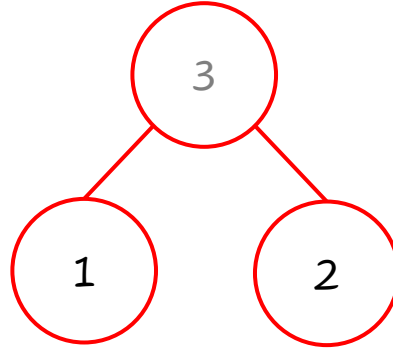
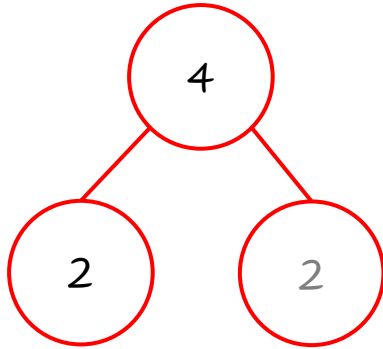
0 und 1 sind Zahlenfreunde der

$0 + 1 =$



3. Welche Zahl fehlt?

Beispiele:





4. Welche Zahl fehlt?

Beispiel:

$$\boxed{3} = 2 + 1$$

$$2 + 2 = \boxed{}$$

$$3 = 1 + \boxed{}$$

$$\boxed{} + 4 = 4$$

$$\boxed{} = 3 + 1$$

$$1 + \boxed{} = 3$$

$$2 = \boxed{} + 0$$

$$\boxed{} + 2 = 3$$

$$3 = 0 + \boxed{}$$

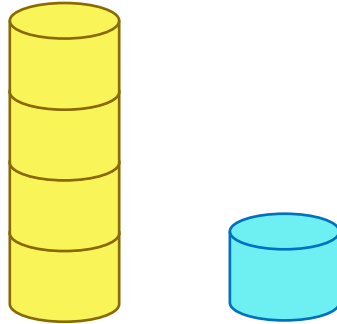
$$1 + 3 = \boxed{}$$

$$2 = 1 + \boxed{}$$



5. Finde die Zahlenfreunde der 5.

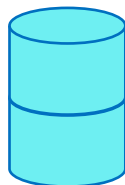
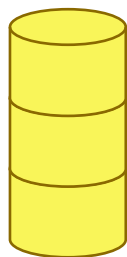
Beispiel:



4 und 1 sind Zahlenfreunde der 5.

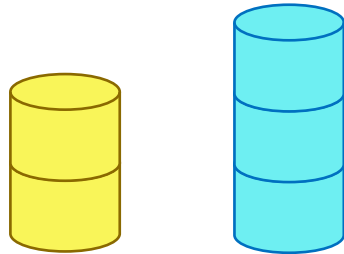


$$\boxed{4} + \boxed{1} = \boxed{5}$$



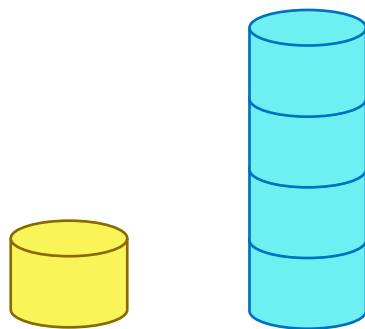
_____ und _____ sind Zahlenfreunde der 5

$$\boxed{} + \boxed{} = \boxed{5}$$



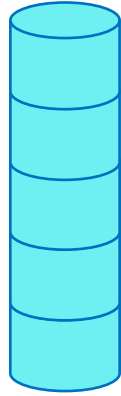
_____ und _____ sind Zahlenfreunde der 5

$$\square + \square = \square 5$$



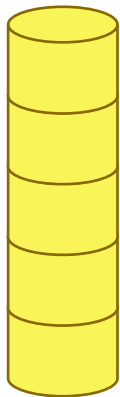
_____ und _____ sind Zahlenfreunde der 5

$$\square + \square = \square 5$$



_____ und _____ sind Zahlenfreunde der 5

$$\square + \square = 5$$



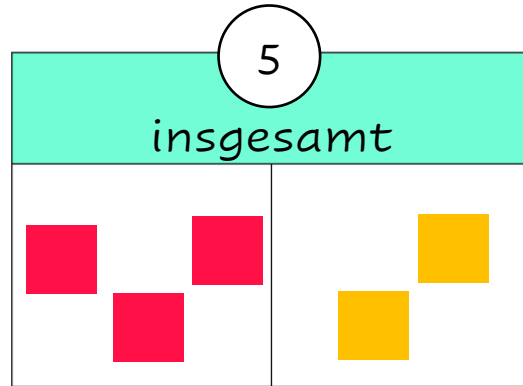
_____ und _____ sind Zahlenfreunde der 5

$$\square + \square = 5$$

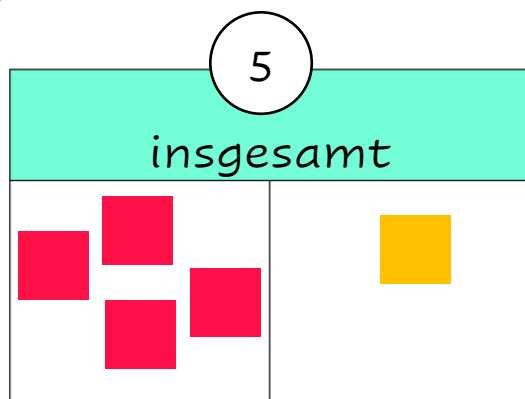


6. Male und schreibe die fehlende Zahl.

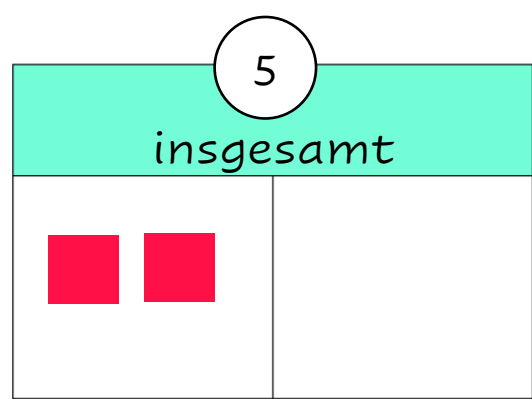
Beispiel:



$$\boxed{3} + \boxed{2} = \boxed{5}$$





$$\boxed{} + \boxed{} = \boxed{5}$$



$$\boxed{2} + \boxed{} = \boxed{5}$$

○

insgesamt



	
---	---

+

 =

4 ○

insgesamt


	
---	---

+

 =

3 ○

insgesamt


	
---	--

+

 =

2 ○

insgesamt

	
--	---

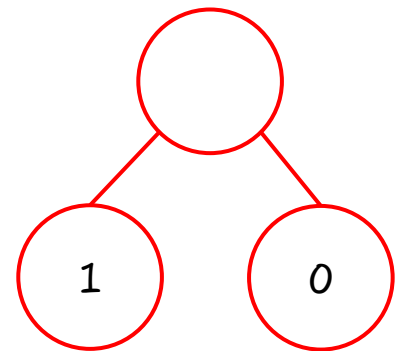
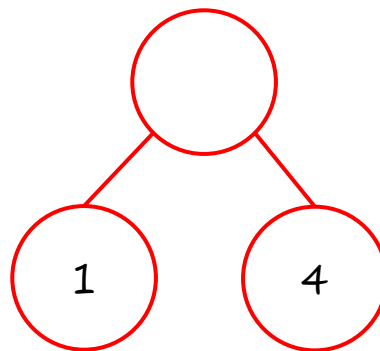
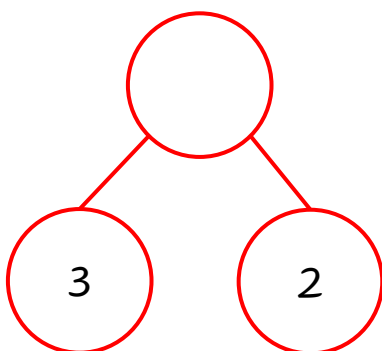
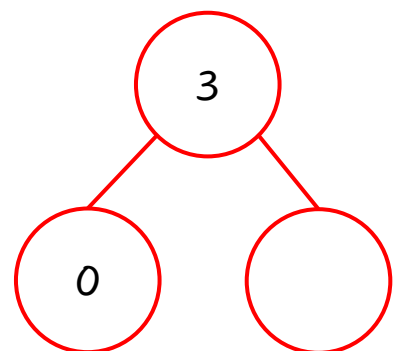
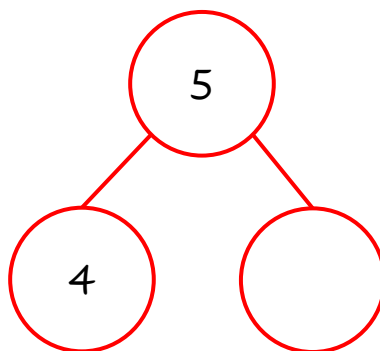
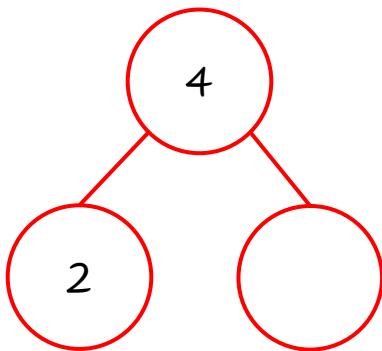
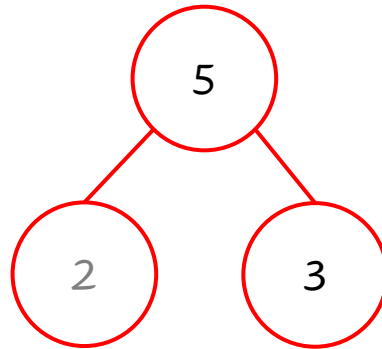
+

 =



7. Welche Zahl fehlt?

Beispiel:





8. Welche Zahl fehlt?

Beispiel:

$$\boxed{1} + 4 = 5$$

$$\boxed{} + 3 = 5$$

$$4 = 0 + \boxed{}$$

$$1 + 2 = \boxed{}$$

$$5 = \boxed{} + 1$$

$$\boxed{} + 5 = 5$$

$$\boxed{} = 2 + 2$$

$$1 + \boxed{} = 4$$

$$5 = \boxed{} + 2$$

$$\boxed{} + 2 = 4$$

$$4 = 1 + \boxed{}$$

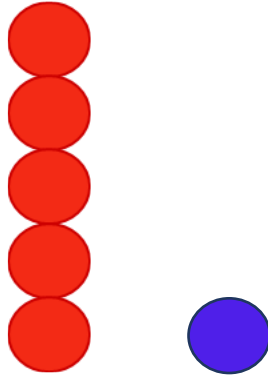
$$3 + 2 = \boxed{}$$

$$2 = 1 + \boxed{}$$



9. Finde die Zahlenfreunde der 6.

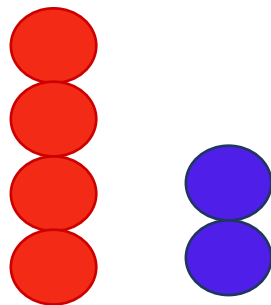
Beispiel:



5 und 1 sind Zahlenfreunde der 6.

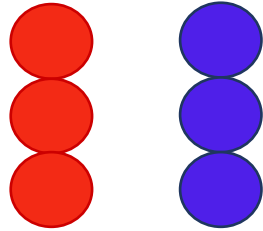


$$\boxed{5} + \boxed{1} = \boxed{6}$$



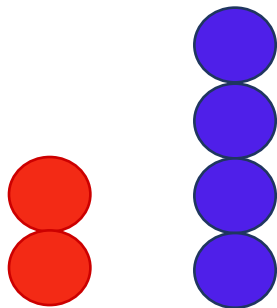
_____ und _____ sind Zahlenfreunde der 6

$$\boxed{} + \boxed{} = \boxed{6}$$



_____ und _____ sind Zahlenfreunde der 6

$$\square + \square = \square 6$$



_____ und _____ sind Zahlenfreunde der 6

$$\square + \square = \square 6$$

_____ und _____ sind Zahlenfreunde der 6

+ = 6

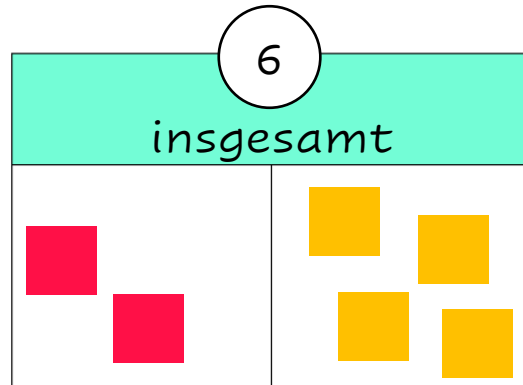
_____ und _____ sind Zahlenfreunde der 6

+ = 6

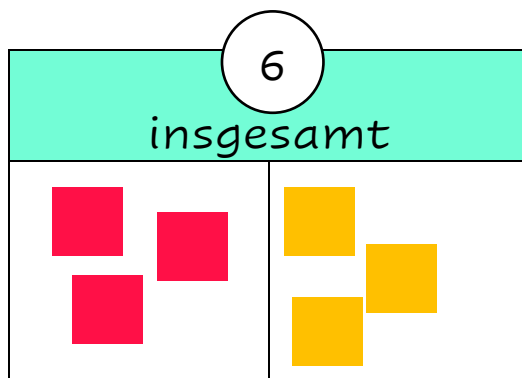


10. Male und schreibe die fehlende Zahl.

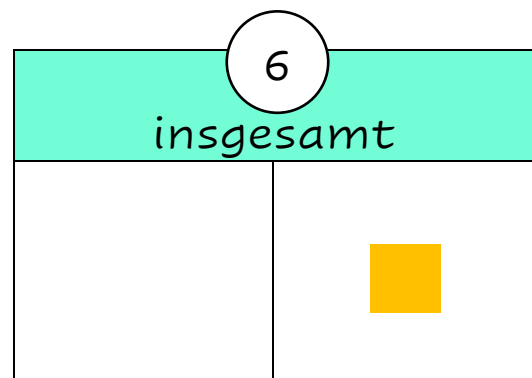
Beispiel:



$$\boxed{2} + \boxed{4} = \boxed{6}$$





$$\boxed{} + \boxed{} = \boxed{6}$$



$$\boxed{} + \boxed{1} = \boxed{6}$$




○
insgesamt

	
---	---


+ =

○4
insgesamt

	
--	--

2 + = 4

○5
insgesamt

	
--	---

+ 1 = 5

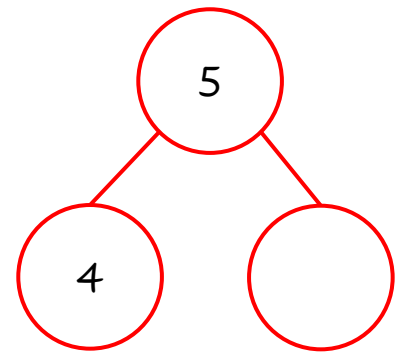
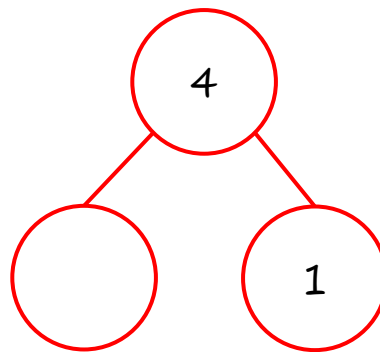
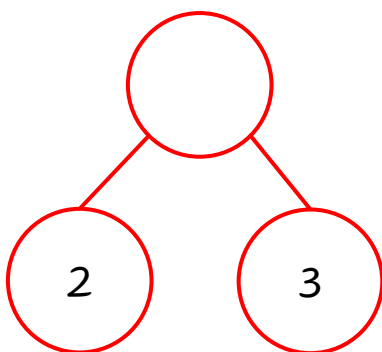
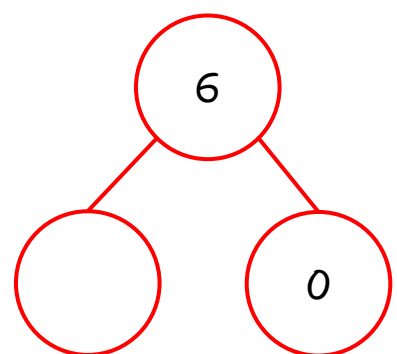
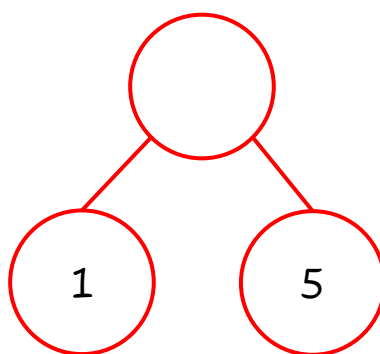
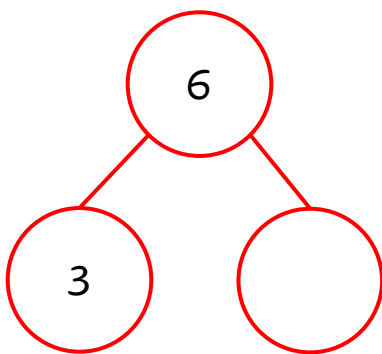
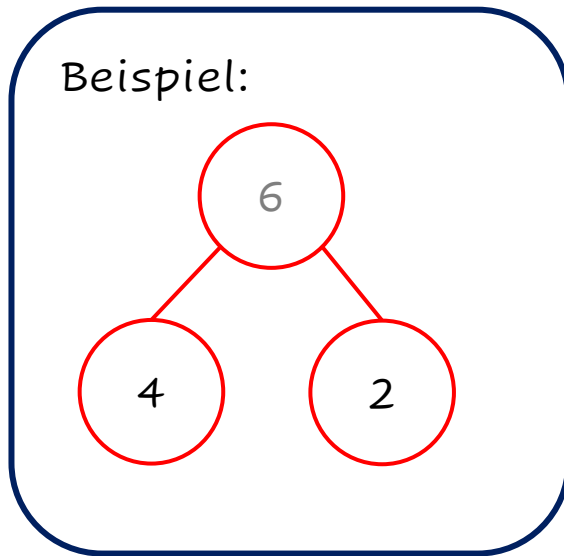
○6
insgesamt

--	--

0 + = 6



11. Welche Zahl fehlt?





12. Welche Zahl fehlt?

Beispiel:

$$\boxed{6} = 1 + 5$$

$$\boxed{} + 4 = 6$$

$$5 = \boxed{} + 2$$

$$3 + 2 = \boxed{}$$

$$6 = 3 + \boxed{}$$

$$3 + 1 = \boxed{}$$

$$\boxed{} = 5 + 1$$

$$\boxed{} + 2 = 4$$

$$6 = 0 + \boxed{}$$

$$2 + \boxed{} = 6$$

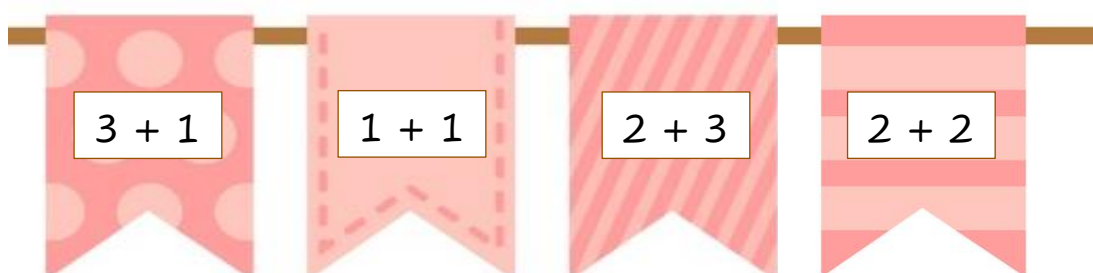
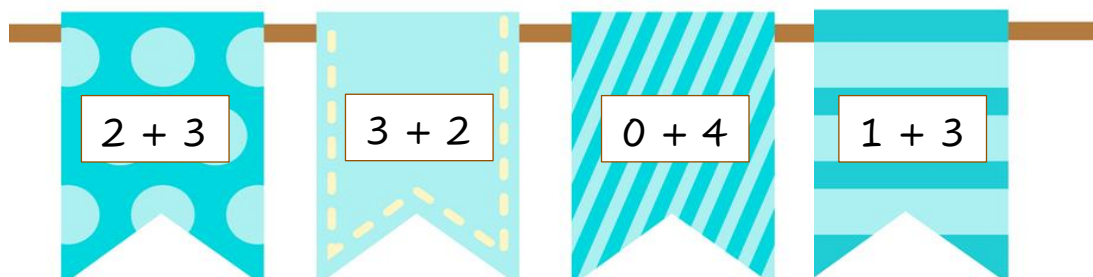
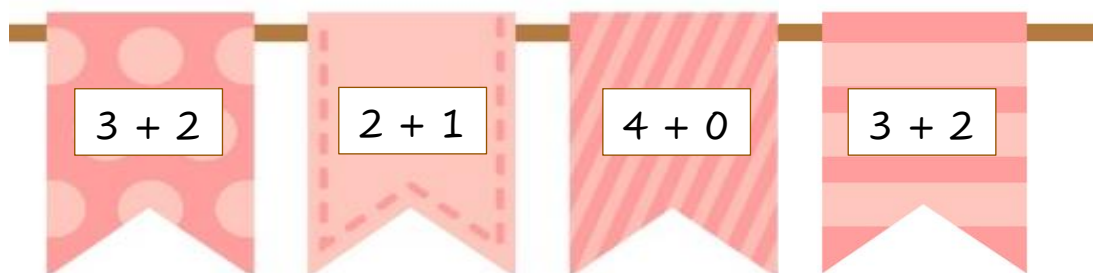
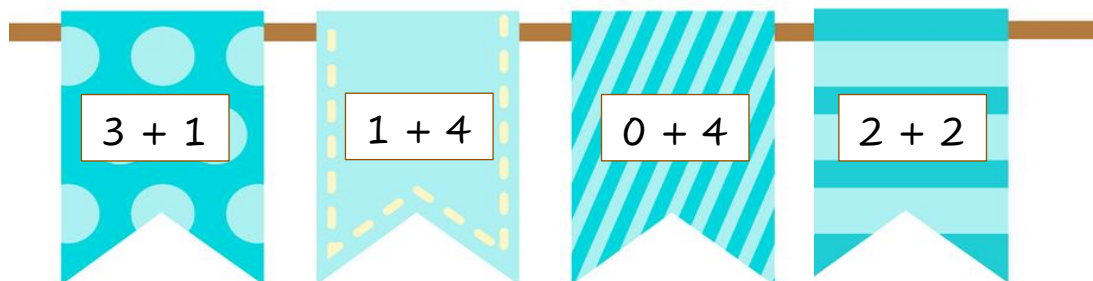
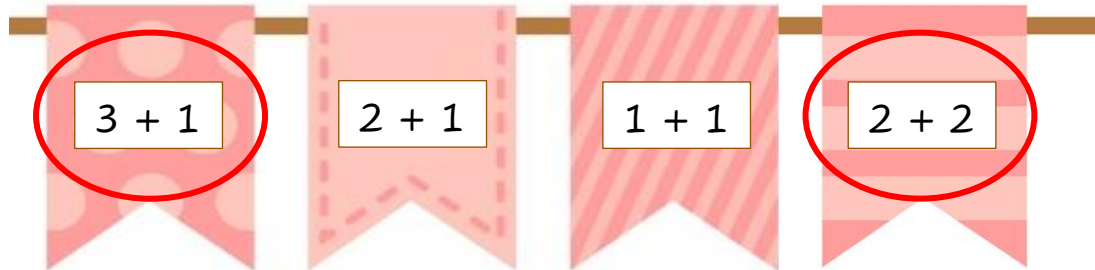
$$3 = 1 + \boxed{}$$

$$\boxed{} + 4 = 5$$

$$5 = 5 + \boxed{}$$

13. Kreise in jeder Zeile die Aufgaben ein, die das Ergebnis 4 haben.

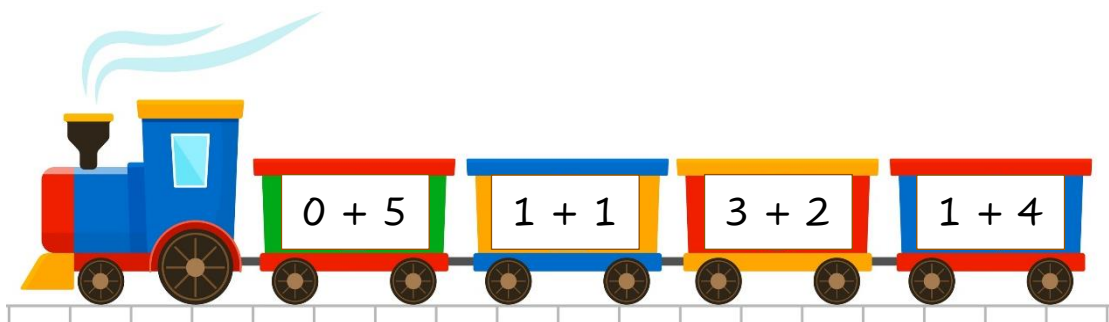
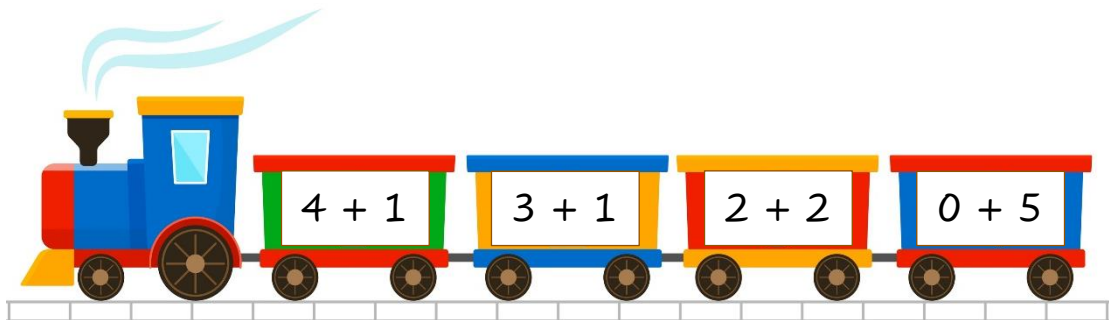
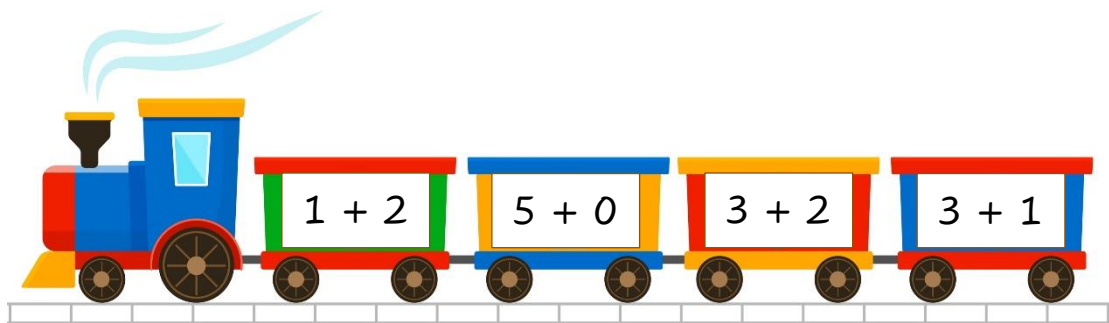
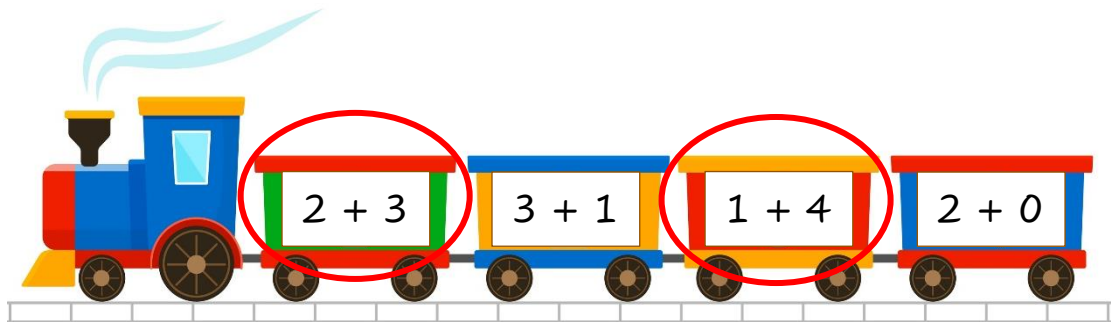
Beispiel:





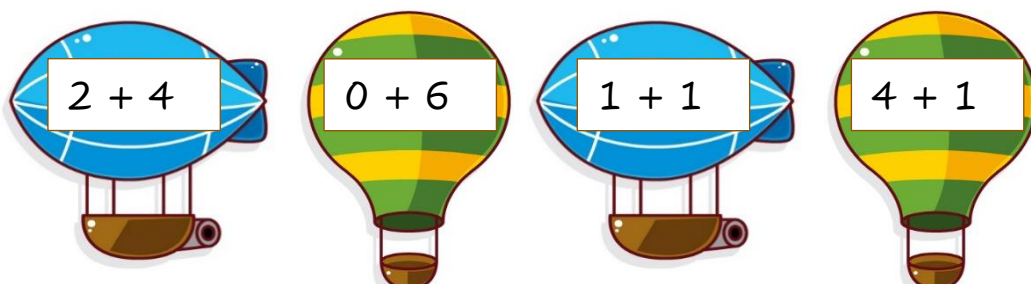
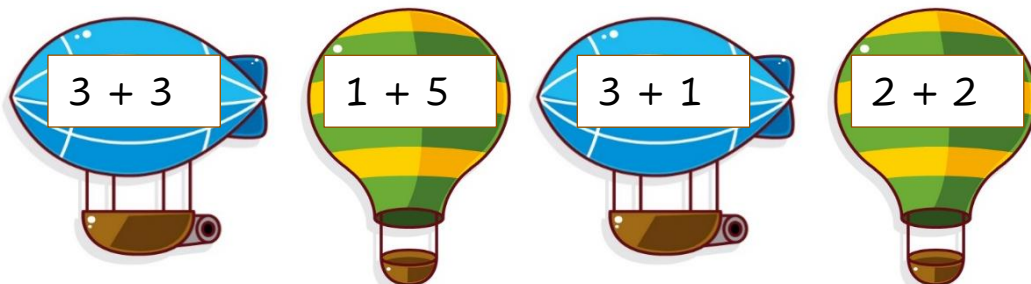
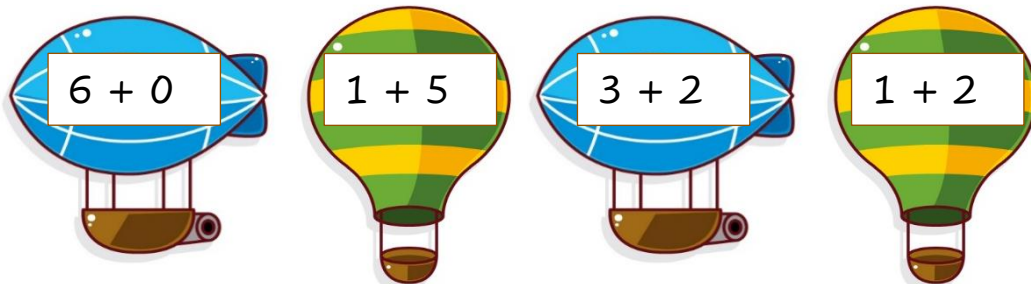
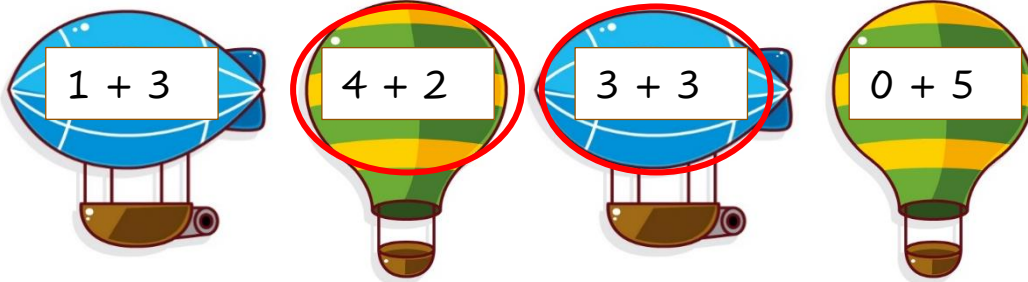
14. Kreise in jeder Zeile die Aufgaben ein, die das Ergebnis 5 haben.

Beispiel:



15. Kreise in jeder Zeile die Aufgaben ein, die das Ergebnis 6 haben.

Beispiel:





16. Welche Zahl fehlt?

$$2 + \square = 3$$

$$3 + \square = 5$$

$$1 + \square = 2$$

$$4 + \square = 6$$

$$3 + \square = 6$$

$$4 + \square = 5$$

$$\square + 2 = 4$$

$$\square + 3 = 5$$

$$\square + 0 = 6$$

$$\square + 3 = 4$$

$$\square + 1 = 5$$

$$\square + 4 = 6$$

$$4 + 2 = \square$$

$$2 + 3 = \square$$

$$1 + 5 = \square$$

$$3 + 3 = \square$$

$$4 + 1 = \square$$

$$0 + 6 = \square$$



17. Fülle die Tabellen aus.

1	
1	0

2	
2	0
1	

3	
3	0
2	

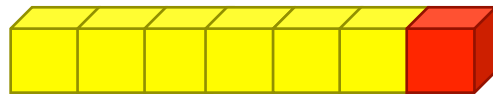
4	
4	0

5	
5	0

6	
6	0

18.

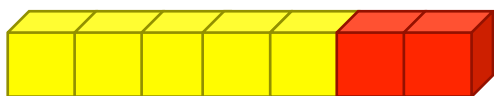
Du kannst die 7 auf verschiedene Arten zerlegen!



7 ist 6  und 1 

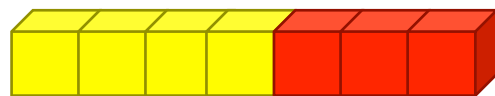
$$\boxed{7} = \boxed{6} + \boxed{1}$$

Fülle die Lücken.



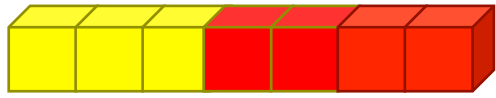
7 ist ___  und ___ 

$$\boxed{7} = \boxed{} + \boxed{}$$



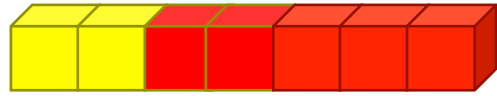
7 ist ___  und ___ 

$$\boxed{7} = \boxed{} + \boxed{}$$




7 ist ___  und ___ 

$$7 = \square + \square$$




7 ist ___  und ___ 

$$7 = \square + \square$$



7 ist ___  und ___ 

$$7 = \square + \square$$



7 ist ___  und ___ 


$$7 = \square + \square$$





19. Male Punkte, um 7 auf verschiedene Arten zu zerlegen.

Beispiel:



4 und 3

$$\boxed{4} + \boxed{3} = \boxed{7}$$



___ und ___

$$\boxed{} + \boxed{} = \boxed{}$$



___ und ___

$$\boxed{} + \boxed{} = \boxed{}$$



___ und ___

$$\boxed{} + \boxed{} = \boxed{}$$



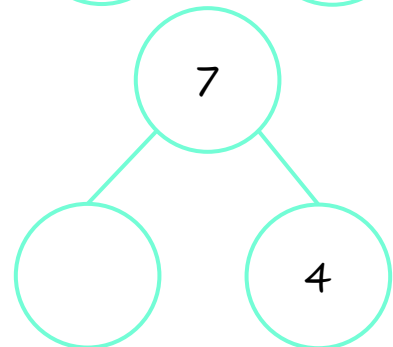
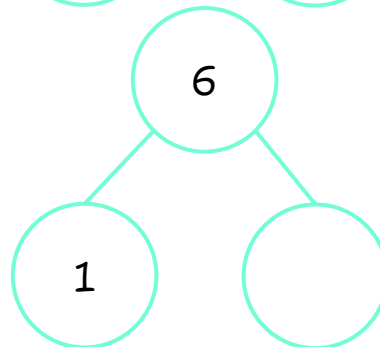
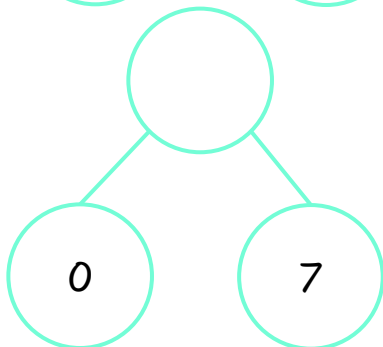
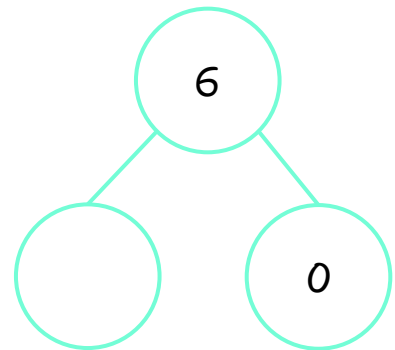
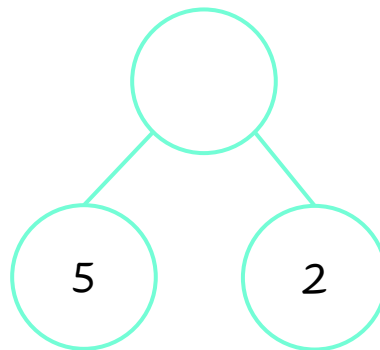
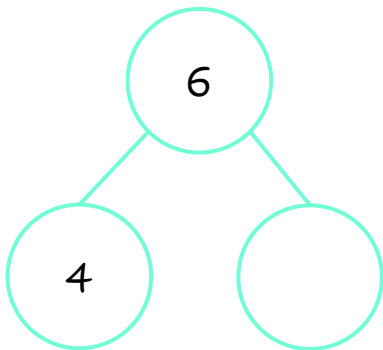
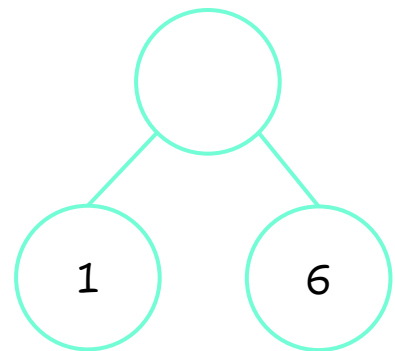
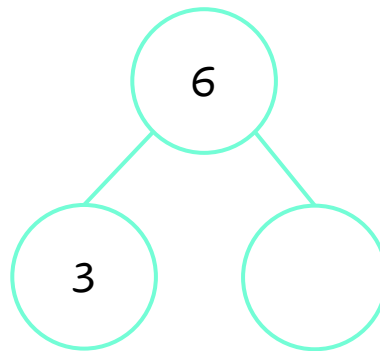
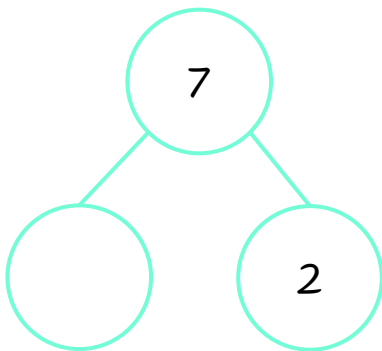
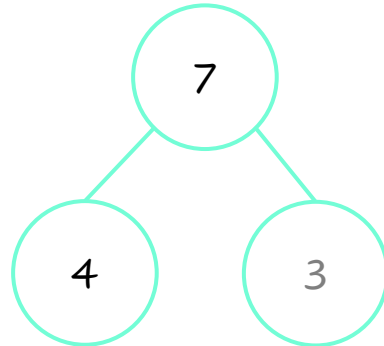
___ und ___

$$\boxed{} + \boxed{} = \boxed{}$$



20. Welche Zahl fehlt?

Beispiel:





21. Finde das Ergebnis.

Beispiel:

$$5 + \overset{\bullet\bullet}{2} = \square$$

$$4 + \overset{\bullet\bullet\bullet}{3} = \square$$

$$\overset{\bullet\bullet}{2} + 5 = \square$$

$$\overset{\bullet}{1} + 6 = \square$$

$$3 + \overset{\bullet\bullet\bullet}{3} = \square$$

$$\overset{\bullet\bullet}{2} + 4 = \square$$

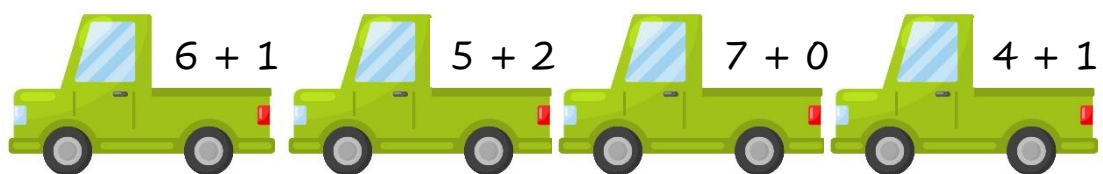
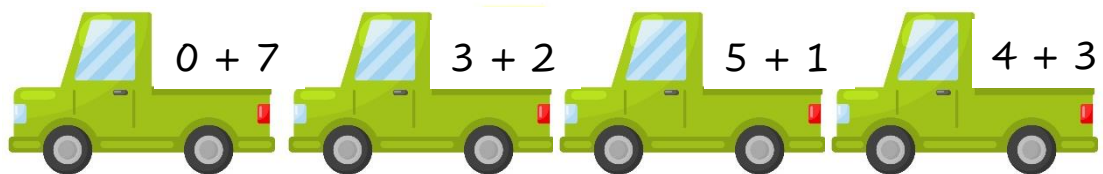
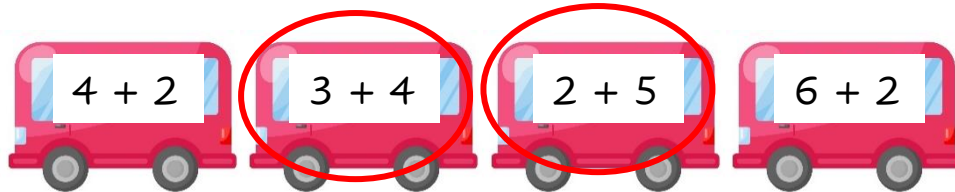
$$3 + \overset{\bullet\bullet}{2} = \square$$

$$1 + \overset{\bullet\bullet\bullet}{3} = \square$$

$$\overset{\bullet\bullet}{2} + 2 = \square$$

22. Kreise in jeder Zeile die Aufgaben ein, die das Ergebnis 7 haben.

Beispiel:





23. Welche Zahl fehlt?

Beispiel:

$$\boxed{5} = 2 + 3$$

$$5 + 2 = \boxed{}$$

$$6 = 1 + \boxed{}$$

$$\boxed{} + 0 = 4$$

$$\boxed{} = 6 + 1$$

$$0 + \boxed{} = 7$$

$$6 = \boxed{} + 3$$

$$\boxed{} + 2 = 4$$

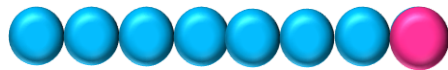
$$7 = 2 + \boxed{}$$

$$4 + 3 = \boxed{}$$

$$6 = 2 + \boxed{}$$

24.

Du kannst die Zahl 8 auf verschiedene Weisen darstellen!

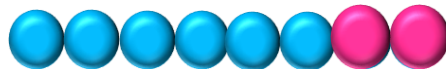


8 ist 7  und 1 

$$\boxed{8} = \boxed{7} + \boxed{1}$$

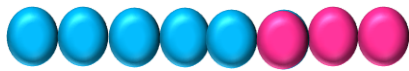


Finde weitere Arten, die Zahl 8 darzustellen.



8 ist ___  und ___ 

$$\boxed{8} = \boxed{} + \boxed{}$$



8 ist ___  und ___ 

$$\boxed{8} = \boxed{} + \boxed{}$$



8 ist ___  und ___ 

$$\boxed{8} = \boxed{} + \boxed{}$$



8 ist ___  und ___ 

$$\boxed{8} = \boxed{} + \boxed{}$$



8 ist ___  und ___ 

$$\boxed{8} = \boxed{} + \boxed{}$$



8 ist ___  und ___ 

$$\boxed{8} = \boxed{} + \boxed{}$$



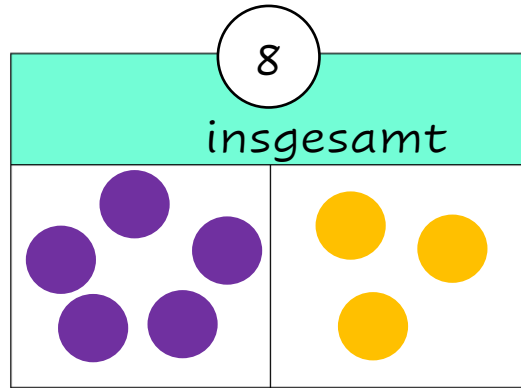
8 ist ___  und ___ 

$$\boxed{8} = \boxed{} + \boxed{}$$

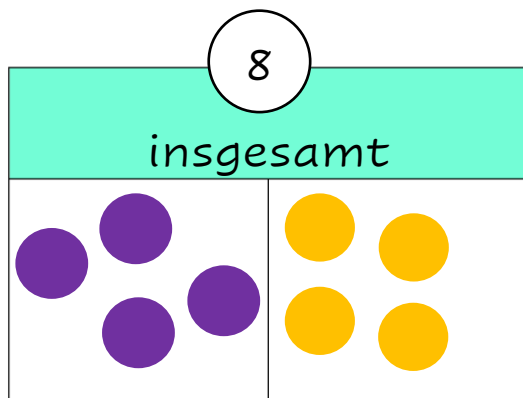


25. Male und schreibe die fehlende Zahl.

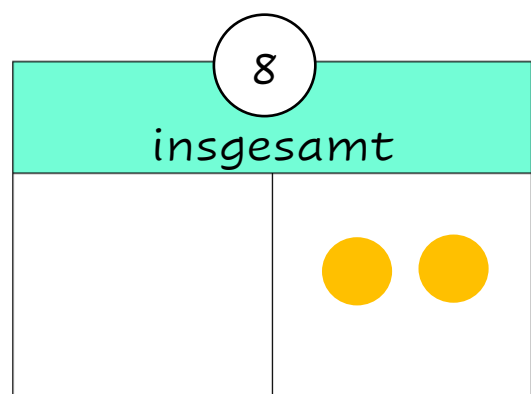
Beispiel:



$$\boxed{5} + \boxed{3} = \boxed{8}$$





$$\boxed{} + \boxed{} = \boxed{8}$$





$$\boxed{} + \boxed{2} = \boxed{8}$$

○

insgesamt	
	



+
 =

○

insgesamt	
	



+
 =

○

insgesamt	
	



+
 =

○

insgesamt	
	



+
 =

○

insgesamt	
	

+
 =

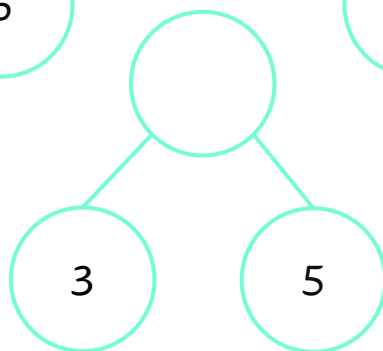
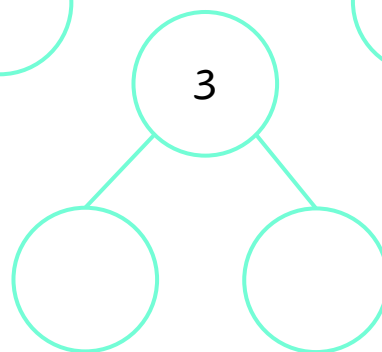
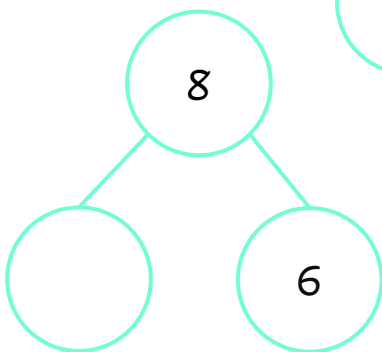
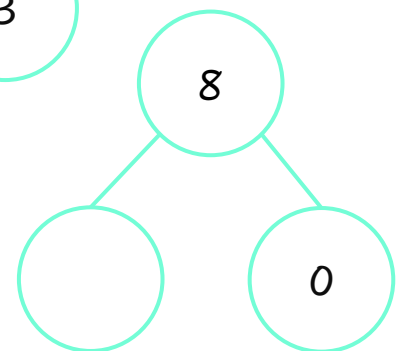
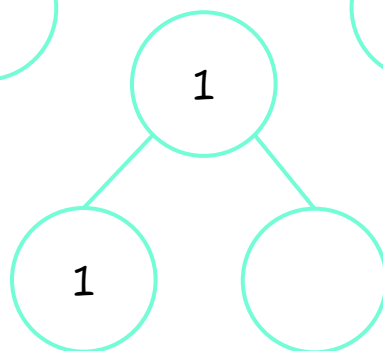
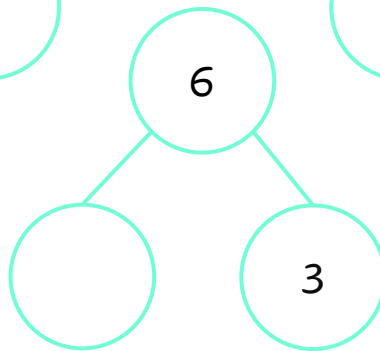
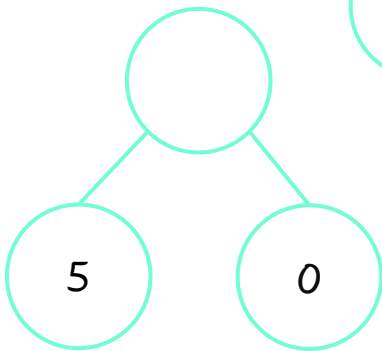
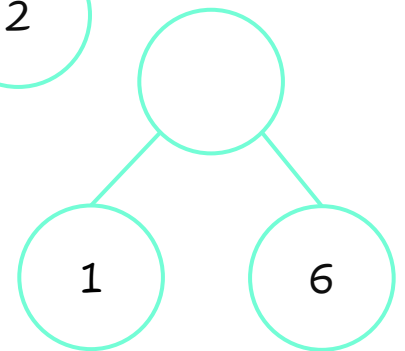
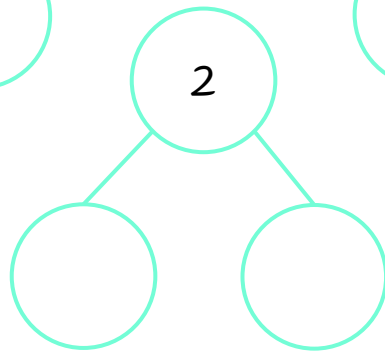
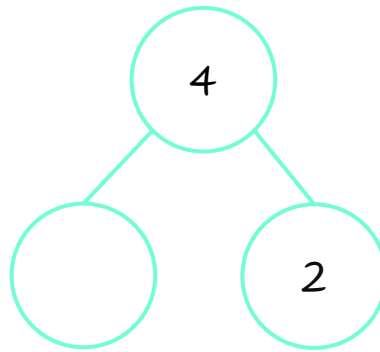
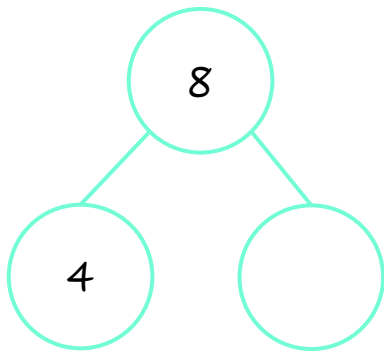
○

insgesamt	
	

+
 =

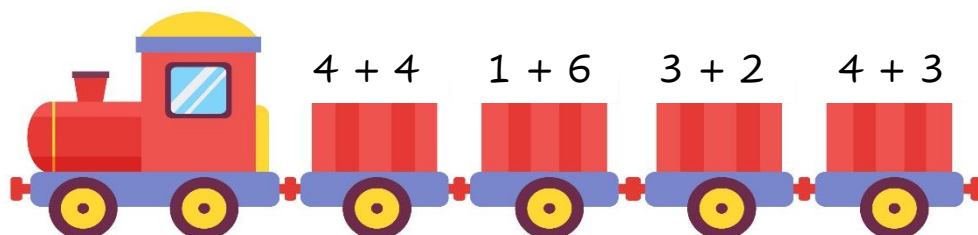

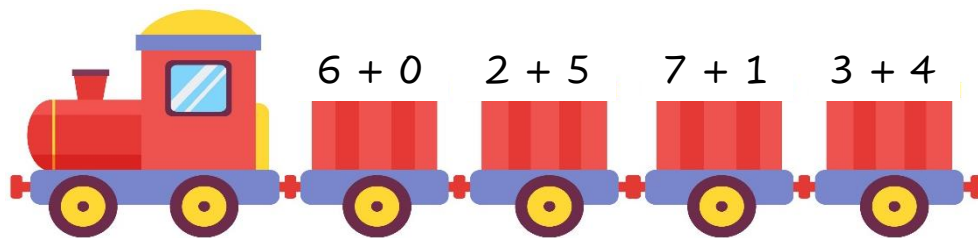



26. Welche Zahl fehlt?



27. Kreise in jeder Zeile die Aufgaben ein, die das Ergebnis 8 haben.

Beispiel:





28. Welche Zahl fehlt?

Beispiel:

$$\square + 2 = 8$$

$$\square + 3 = 7$$

$$8 = 0 + \square$$

$$4 + 2 = \square$$

$$7 = \square + 1$$

$$\square + 7 = 8$$

$$\square = 4 + 4$$

$$2 + \square = 6$$

$$5 = \square + 3$$

$$\square + 3 = 6$$

$$3 = 2 + \square$$

$$3 + 5 = \square$$

$$8 = 7 + \square$$

29.

Du kannst die Zahl 9 auf verschiedene Weisen darstellen!



9 ist 8 und 1

$$\boxed{9} = \boxed{8} + \boxed{1}$$

Finde weitere Arten, die Zahl 9 darzustellen.



9 ist und

$$\boxed{9} = \boxed{\quad} + \boxed{\quad}$$



9 ist ___ und ___

$$9 = \square + \square$$



9 ist ___ und ___

$$9 = \square + \square$$



9 ist ___ und ___

$$9 = \square + \square$$



9 ist ___ und ___

$$9 = \square + \square$$



9 ist ___ und ___

$$9 = \square + \square$$



9 ist ___ und ___

$$9 = \square + \square$$




9 ist ___ und ___

$$9 = \square + \square$$



30. Male Punkte, um 9 auf verschiedene Arten zu zerlegen.

Beispiel:



4 und 5

$$\boxed{4} + \boxed{5} = \boxed{9}$$



___ und ___

$$\boxed{} + \boxed{} = \boxed{9}$$



___ und ___

$$\boxed{} + \boxed{} = \boxed{9}$$



___ und ___

$$\boxed{} + \boxed{} = \boxed{9}$$



___ und ___

$$\boxed{} + \boxed{} = \boxed{9}$$



--	--

___ und ___

$$\square + \square = 9$$

--	--

___ und ___

$$\square + \square = 9$$



--	--

___ und ___

$$\square + \square = 9$$

--	--

___ und ___

$$\square + \square = 9$$

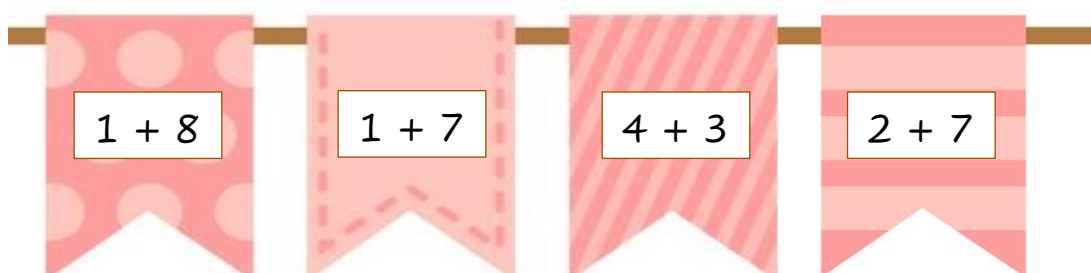
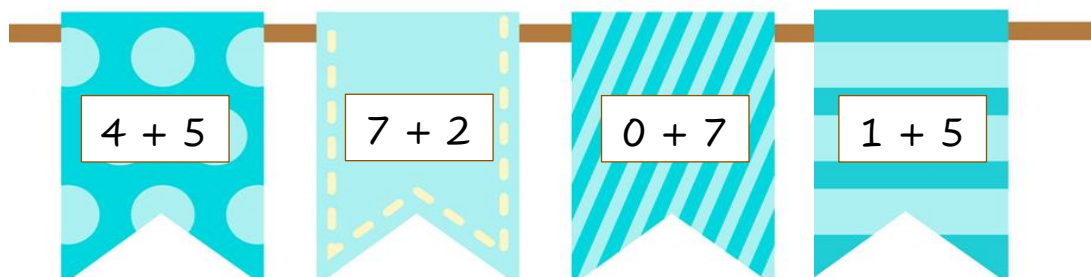
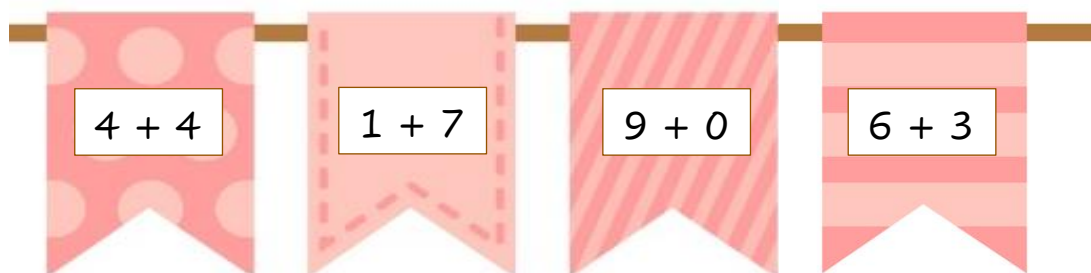
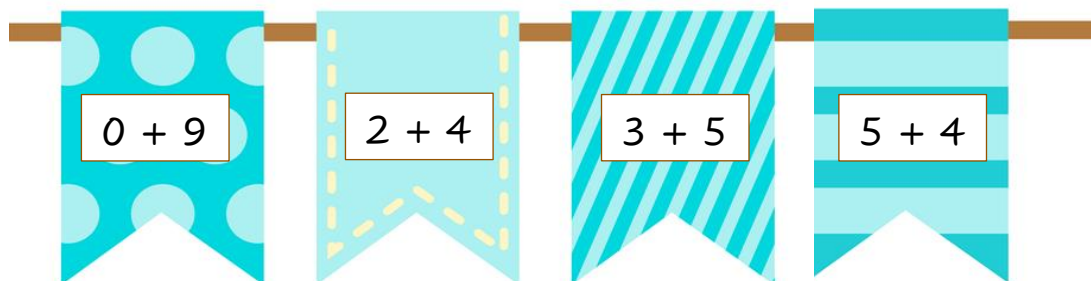
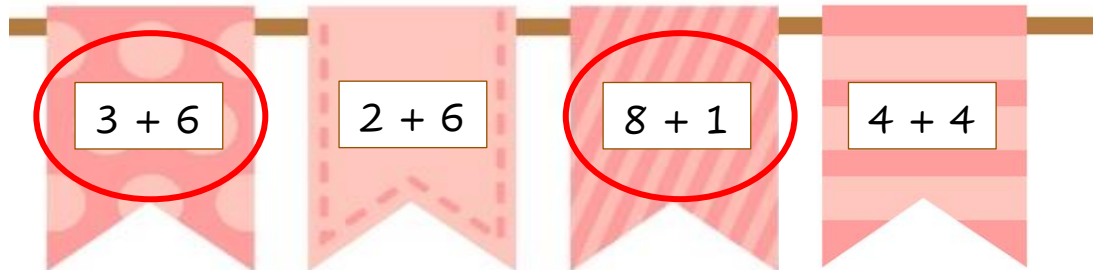
--	--

___ und ___

$$\square + \square = 9$$

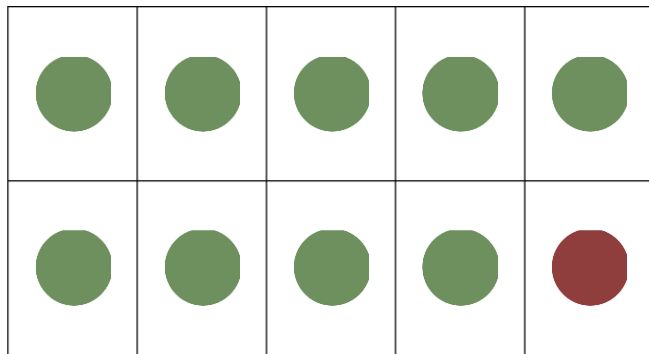

31. Kreise in jeder Zeile die Aufgaben ein, die das Ergebnis 9 haben.

Beispiel:



34.

Du kannst die Zahl 10 auf verschiedene Weisen darstellen!

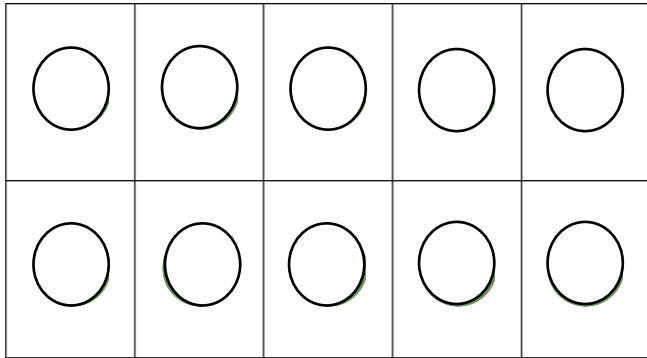


10 ist 9 und 1

$$10 = 9 + 1$$

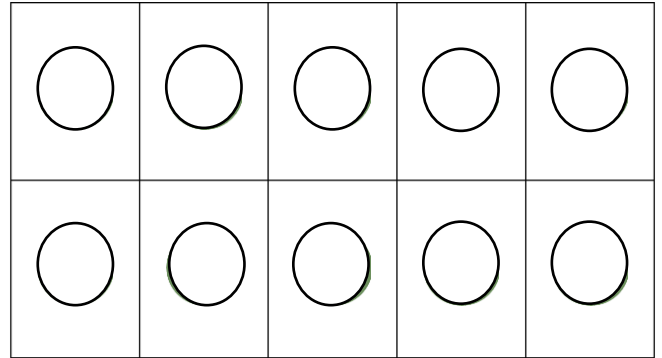


Finde mehr Arten, um die Zahl 10 darzustellen.



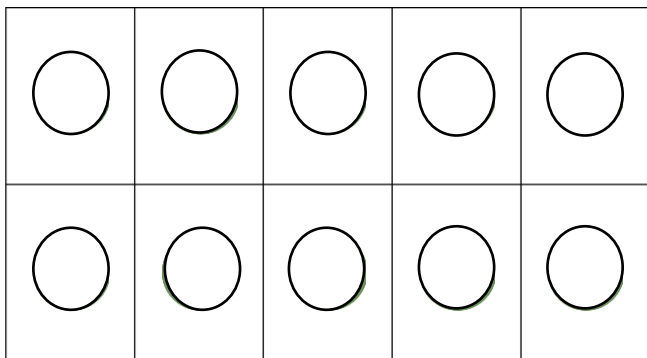
10 ist ___ und ___

$$10 = \square + \square$$



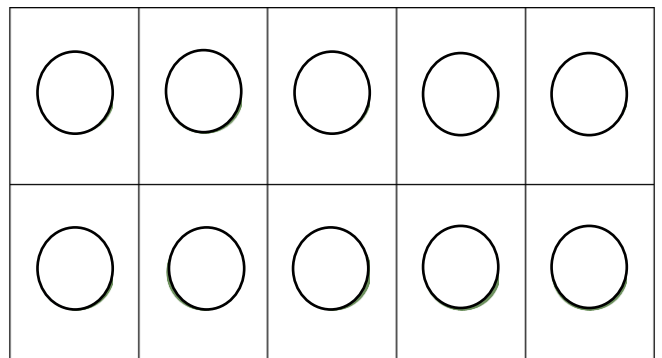
10 ist ___ und ___

$$10 = \square + \square$$



10 ist ___ und ___

$$10 = \square + \square$$



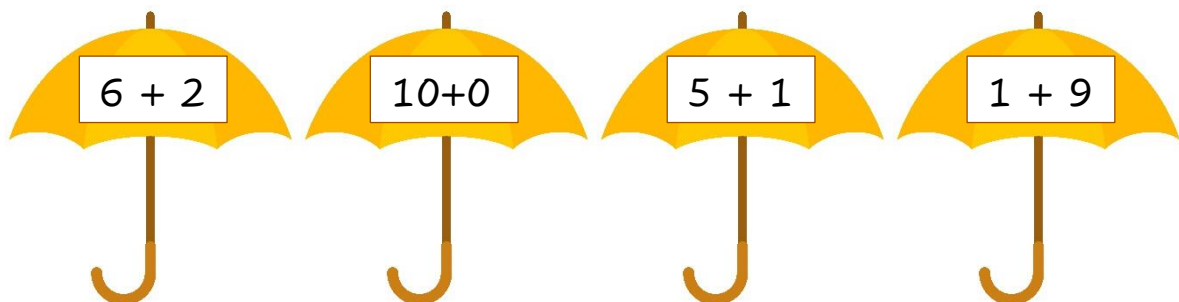
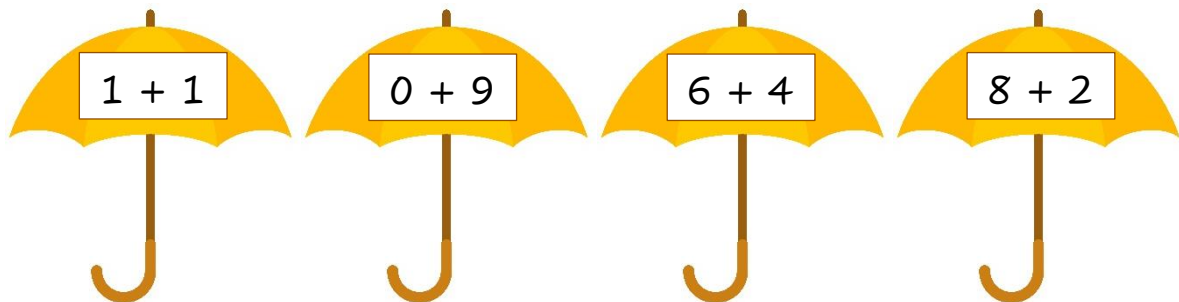
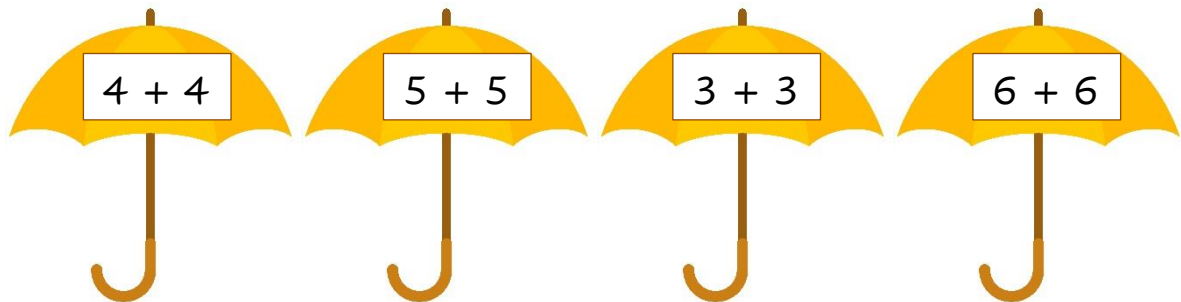
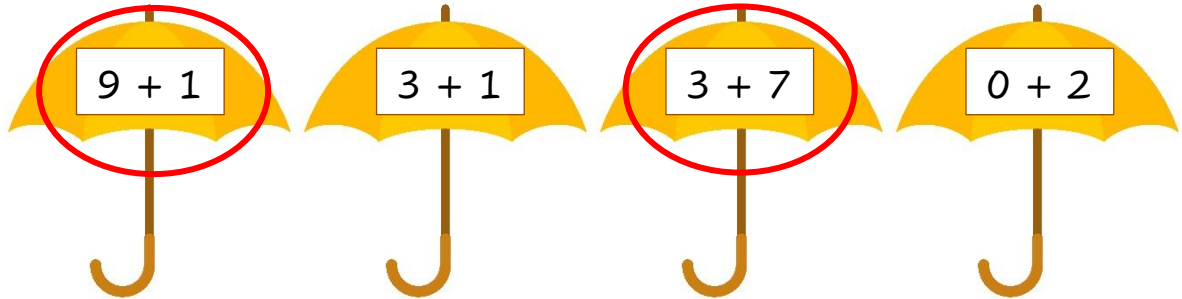
10 ist ___ und ___

$$10 = \square + \square$$



32. Kreise in jeder Zeile die Aufgaben ein, die das Ergebnis 10 haben.

Beispiel:





33. Fülle die Tabellen aus.

10	
10	0
9	

9	
9	0
8	

8	
8	0
7	

7	
7	0