

1. Beantworte die Fragen zu jedem Bild.

Beispiel:



Wie viele Kinder sind im Meer?

2

Wie viele Kinder sind **nicht** im Meer?

6

Wie viele Kinder gibt es insgesamt?

8

2

+

6

=

8



Wie viele Kinder spielen im Sand?

Wie viele Kinder spielen mit anderen Dingen?

Wie viele Kinder gibt es insgesamt?

$$\square + \square = \square$$



Wie viele Tiere sind außerhalb des Flusses?

Wie viele Tiere sind im Fluss?

Wie viele Tiere gibt es insgesamt?

$$\square + \square = \square$$



Wie viele Bücher hat Dora in der Hand?

Wie viele Bücher hat Peter in der Hand?

Wie viele Bücher gibt es insgesamt?

$$\square + \square = \square$$



Wie viele Kinder melden sich?

Wie viele Kinder melden sich **nicht**?

Wie viele Kinder gibt es insgesamt?

$$\square + \square = \square$$



Wie viele Flaschen sind in Doras Kiste?

Wie viele Flaschen legt Peter dazu?

Wie viele Flaschen gibt es insgesamt?

$$\square + \square = \square$$



Wie viele Plätzchen sind auf dem Blech?

Wie viele Plätzchen sind schon vorbereitet?


Wie viele Plätzchen gibt es insgesamt?

$$\square + \square = \square$$



2. Kreise die richtige Aufgabe ein und berechne das Ergebnis.

Anna hatte 6 Bälle. Sie gab ihrer Freundin Lena 2 Bälle. Wie viele Bälle hat Anna jetzt?



$4 + 2 = \square$

$6 - 2 = \square$

$8 - 2 = \square$

$6 + 2 = \square$

Antwort: \_\_\_\_\_

John hat 2 Gitarren und 3 Trommeln. Wie viele Musikinstrumente hat John?



$2 + 3 = \square$

$3 - 2 = \square$

$5 - 2 = \square$

$5 + 3 = \square$

Antwort: \_\_\_\_\_

Carolin hatte 5 Stifte. Sie hat 2 neue Stifte gekauft. Wie viele Stifte hat Carolin jetzt?



$5 - 2 = \square$

$7 + 2 = \square$

$7 - 2 = \square$


$2 + 5 = \square$

Antwort: \_\_\_\_\_



3. Schreibe eine Aufgabe für jede Geschichte und berechne das Ergebnis.

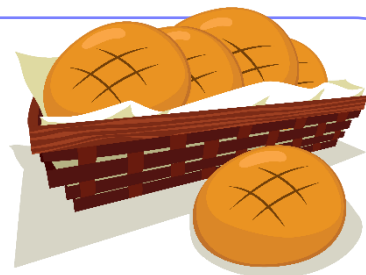
Anna hat 2 Pizzastücke mit Ananas und 3 Pizzastücke mit Pilzen gegessen. Wie viele Pizzastücke hat Anna insgesamt gegessen?



Aufgabe: \_\_\_\_\_

Antwort: \_\_\_\_\_

Harry hat 5 Brote gebacken. Er gibt 1 Brot an seine Nachbarin. Wie viele Brote sind übriggeblieben?



Aufgabe: \_\_\_\_\_

Antwort: \_\_\_\_\_

In einem Korb sind 3 rote Äpfel und 3 grüne Äpfel. Wie viele Äpfel sind in dem Korb?



Aufgabe: \_\_\_\_\_

Antwort: \_\_\_\_\_